

ESAME DI STATO DI LICEO SCIENTIFICO
CORSO DI ORDINAMENTO
 Tema di: MATEMATICA
 a. s. 2010-2011

Il candidato risolva uno dei due problemi e risponda a 5 quesiti del questionario

PROBLEMA 1

Si considerino le funzioni f e g definite, per tutti gli x reali, da:

$$f(x) = x^3 - 4x \quad \text{e} \quad g(x) = \sin \pi x$$

1. Fissato un conveniente sistema di riferimento cartesiano Oxy , si studino f e g e se ne disegnino i rispettivi grafici G_f e G_g .
2. Si calcolino le ascisse dei punti di intersezione di G_f con la retta $y = -3$. Successivamente, si considerino i punti di G_g a tangente orizzontale la cui ascissa è compresa nell'intervallo $[-6, 6]$ e se ne indichino le coordinate.
3. Sia R la regione del piano delimitata da G_f e G_g sull'intervallo $[0, 2]$. Si calcoli l'area di R .
4. La regione R rappresenta la superficie libera dell'acqua contenuta in una vasca. In ogni punto di R a distanza x dall'asse y la misura della profondità dell'acqua nella vasca è data da $h(x) = 3 - x$. Quale integrale definito dà il volume dell'acqua? Supposte le misure in metri, quanti litri di acqua contiene la vasca?

PROBLEMA 2

Sia f la funzione definita sull'insieme R dei numeri reali da

$$f(x) = (ax + b)e^{-\frac{x}{3}} + 3$$

dove a e b sono due reali che si chiede di determinare sapendo che f ammette un massimo nel punto d'ascissa 4 e che $f(0) = 2$.

1. Si provi che $a = 1$ e $b = -1$.
2. Si studi su R la funzione $f(x) = (ax + b)e^{-\frac{x}{3}} + 3$ e se ne tracci il grafico Γ nel sistema di riferimento Oxy .
3. Si calcoli l'area della regione di piano del primo quadrante delimitata da Γ , dall'asse y e dalla retta $y = 3$.
4. Il profitto di una azienda, in milioni di euro, è stato rappresentato nella tabella sottostante designando con x_i l'anno di osservazione e con y_i il corrispondente protitto.

Anno	2004	2005	2006	2007	2008	2009	2010
x_i	0	1	2	3	4	5	6
y_i	1,97	3,02	3,49	3,71	3,80	3,76	3,65

Si cerca una funzione che spieghi il fenomeno dell'andamento del profitto giudicando accettabile una funzione g definita su R^+ se per ciascun x_i , oggetto dell'osservazione, si ha:

$|g(x_i) - y_i| \leq 10^{-1}$. Si verifichi, con l'aiuto di una calcolatrice, che è accettabile la funzione f del punto 2 e si dica, giustificando la risposta, se è vero che, in tal caso, l'evoluzione del fenomeno non potrà portare a profitti inferiori ai 3 milioni di euro.

QUESTIONARIO

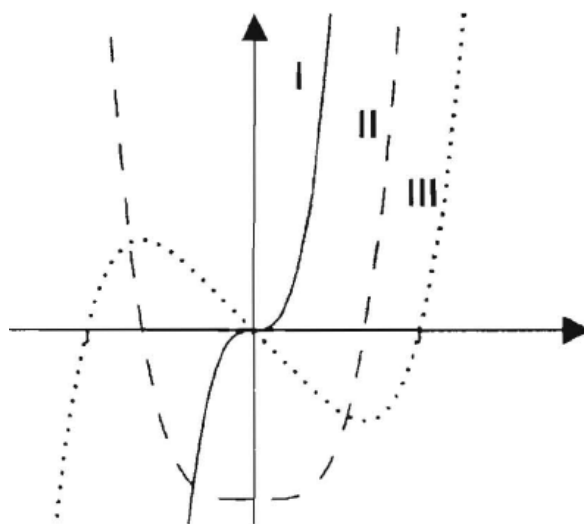
1. Un serbatoio ha la stessa capacità del cilindro di massimo volume inscritto in una sfera di raggio 60 cm. Quale è la capacità in litri del serbatoio?
2. Si trovi il punto della curva $y = \sqrt{x}$ più vicino al punto di coordinate (4,0).
3. Sia R la regione delimitata dalla curva $y = x^3$, dall'asse x e dalla retta $x = 2$ e sia W il solido ottenuto dalla rotazione di R attorno all'asse y . Si calcoli il volume di W
4. Il numero delle combinazioni di n oggetti a 4 a 4 è uguale al numero delle combinazioni degli stessi oggetti a 3 a 3. Si trovi n
5. Si trovi l'area della regione delimitata dalla curva $y = \cos x$ e dall'asse x da $x = 1$ a $x = 2$ *radianti*.
6. Si calcoli $\lim_{x \rightarrow a} \frac{\tan x - \tan a}{x - a}$
7. Si provi che l'equazione: $x^{2011} + 2011x + 12$ ha una sola radice compresa fra -1 e 0.
8. In che cosa consiste il problema della *quadratura del cerchio*? Perché è così spesso citato?
9. Si provi che, nello spazio ordinario a tre dimensioni, il luogo geometrico dei punti equidistanti dai tre vertici di un triangolo rettangolo è la retta perpendicolare al piano del triangolo passante per il punto medio dell'ipotenusa.

10. Nella figura a lato, denotati con I, II e III, sono disegnati tre grafici. Uno di essi è il grafico di una funzione f , un altro lo è della funzione derivata f' e l'altro ancora di f'' .

Quale delle seguenti alternative identifica correttamente ciascuno dei tre grafici?

	f	f'	f''
A)	I	II	III
B)	I	III	II
C)	II	III	I
D)	III	II	I
E)	III	I	II

Si motivi la risposta.



Durata massima della prova: 6 ore.

È consentito l'uso della calcolatrice non programmabile.

Non è consentito lasciare l'Istituto prima che siano trascorse 3 ore dalla dettatura del tema.

PROBLEMA 1

Si considerino le funzioni f e g definite, per tutti gli x reali, da:

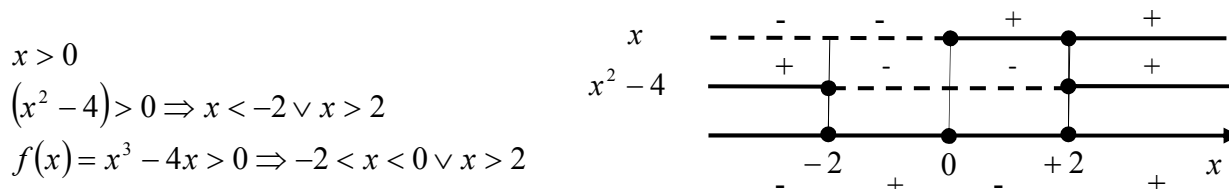
$$f(x) = x^3 - 4x \quad \text{e} \quad g(x) = \sin \pi x$$

Punto 1

Fissato un conveniente sistema di riferimento cartesiano Oxy , si studino f e g e se ne disegnano i rispettivi grafici G_f e G_g

Studiamo la funzione $f(x) = x^3 - 4x$:

- *Dominio*: \mathbb{R} ;
- *Intersezione ascisse*: $f(x) = x^3 - 4x = 0 \Rightarrow x(x-2)(x+2) = 0 \Rightarrow x = -2 \vee x = 0 \vee x = 2$;
- *Intersezioni ordinate*: $x = 0 \Rightarrow f(0) = 0$;
- *Simmetrie*: la funzione è dispari in quanto somma di funzioni dispari; infatti $f(-x) = (-x)^3 - 4(-x) = -x^3 + 4x = -f(x)$;
- *Positività*: la cubica $f(x) = x^3 - 4x$ è fattorizzabile in $f(x) = x(x^2 - 4)$; lo studio del segno dei singoli fattori e della funzione stessa sono rappresentati nel quadro a lato:

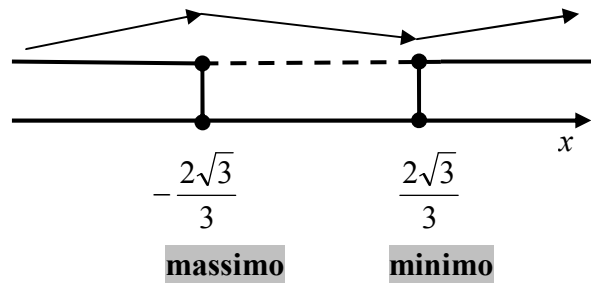


- *Asintoti verticali*: non ve ne sono in quanto il dominio è \mathbb{R} ;
- *Asintoti orizzontali*: $\lim_{x \rightarrow \pm\infty} f(x) = \pm\infty$ per cui non ve ne sono;
- *Asintoti obliqui*: non ve ne sono in quanto $\lim_{x \rightarrow \pm\infty} \frac{f(x)}{x} = +\infty$;
- *Crescenza e decrescenza*: la derivata prima è $f'(x) = 3x^2 - 4$ per cui è strettamente crescente in $\left(-\infty, -\frac{2\sqrt{3}}{3}\right) \cup \left(\frac{2\sqrt{3}}{3}, +\infty\right)$ e strettamente decrescente in $\left(-\frac{2\sqrt{3}}{3}, \frac{2\sqrt{3}}{3}\right)$ per cui $M\left(-\frac{2\sqrt{3}}{3}, \frac{16\sqrt{3}}{9}\right)$ è un massimo e $m\left(\frac{2\sqrt{3}}{3}, -\frac{16\sqrt{3}}{9}\right)$ è un minimo come raffigurato nel quadro dei segni:

$$f'(x) > 0 \Rightarrow x < -\frac{2\sqrt{3}}{3} \vee x > \frac{2\sqrt{3}}{3}$$

$$f'(x) < 0 \Rightarrow -\frac{2\sqrt{3}}{3} < x < \frac{2\sqrt{3}}{3}$$

$$f'(x) = 0 \Rightarrow x = \pm \frac{2\sqrt{3}}{3}$$

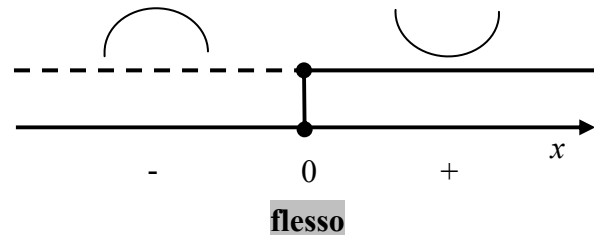


- *Concavità e convessità:* $f''(x) = 6x$ per cui la funzione ha concavità verso l'alto in $(0, +\infty)$ e verso il basso in $(-\infty, 0)$ quindi $F(0,0)$ è un flesso a tangente obliqua di equazione $y = -4x$.

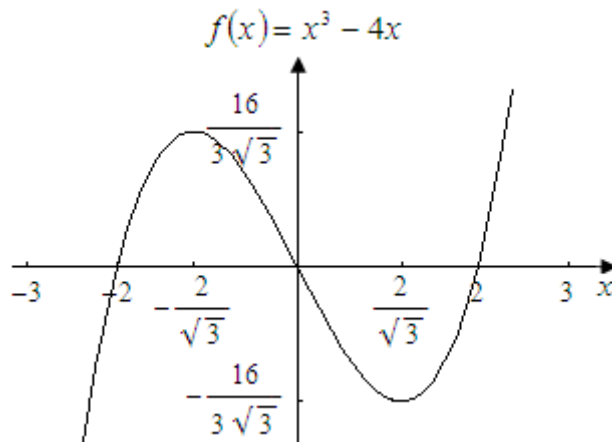
$$f''(x) > 0 \Rightarrow x > 0$$

$$f''(x) < 0 \Rightarrow x < 0$$

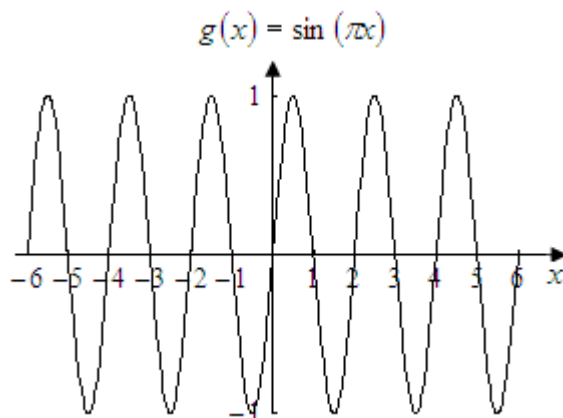
$$f''(x) = 0 \Rightarrow x = 0$$



Il grafico G_f è di seguito presentato:



La funzione $g(x) = \sin(\pi x)$ è una classica funzione sinusoidale, dispari, di periodo $T = 2$ che interseca l'asse delle ascisse nei punti $x = k$ con $k \in \mathbb{Z}$ e il grafico G_g è il seguente:

Punto 2

Si calcolino le ascisse dei punti di intersezione di G_f con la retta $y = -3$. Successivamente, si considerino i punti di G_g a tangente orizzontale la cui ascissa è compresa nell'intervallo $[-6, 6]$ e se ne indichino le coordinate.

Le intersezioni di f con la retta $y = -3$ si calcolano risolvendo l'equazione $x^3 - 4x + 3 = 0$; utilizzando la regola di Ruffini l'equazione diventa $(x-1)(x^2 + x - 3) = 0$ da cui

$$x_1 = 1 \vee x_{2,3} = \frac{-1 \pm \sqrt{13}}{2}.$$

I punti di $g(x)$ a tangente orizzontale sono i punti in cui si annulla la derivata prima

$$g'(x) = \pi \cos(\pi x) \quad \text{e} \quad \text{cioè} \quad g'(x) = \pi \cos(\pi x) = 0 \rightarrow \pi x = \left(k + \frac{1}{2}\right)\pi \rightarrow x = \left(k + \frac{1}{2}\right) \quad \text{con} \quad k \in \mathbb{Z} \quad \text{e}$$

$$\text{nell'intervallo } [-6, 6] \text{ tali punti sono } \left(\pm \frac{1}{2}, \pm 1\right), \left(\pm \frac{3}{2}, \mp 1\right), \left(\pm \frac{5}{2}, \pm 1\right), \left(\pm \frac{7}{2}, \mp 1\right), \left(\pm \frac{9}{2}, \pm 1\right), \left(\pm \frac{11}{2}, \mp 1\right).$$

Alternativamente, poichè i punti a tangente orizzontale sono i massimi e i minimi della sinusoide, si avrà:

- *Massimi*: $\sin \pi x = 1 \Rightarrow \pi x = \frac{\pi}{2} + 2k\pi \Rightarrow x = \frac{1}{2} + 2k$ con $k \in \mathbb{Z}$
- *Minimi*: $\sin \pi x = -1 \Rightarrow \pi x = \frac{3\pi}{2} + 2k\pi \Rightarrow x = \frac{3}{2} + 2k$ con $k \in \mathbb{Z}$

Nell'intervallo $[-6, 6]$ comprendente 6 periodi ci sono 6 massimi e sei minimi: i massimi hanno ascissa $x = \frac{1}{2} + 2k$ con $-6 < \frac{1}{2} + 2k < 6 \wedge k \in \mathbb{Z} \Rightarrow -\frac{13}{4} < k < \frac{11}{4} \wedge k \in \mathbb{Z} \Rightarrow k = -3, -2, -1, 0, 1, 2$ ed

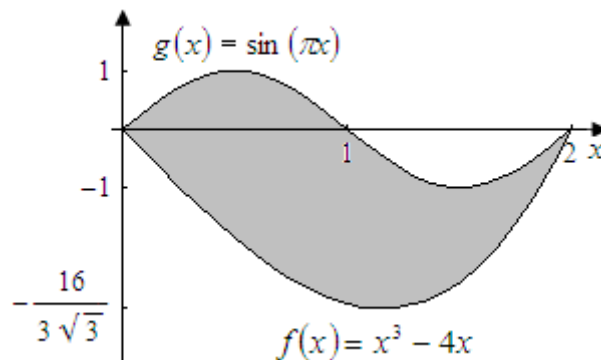
ordinata $y = 1$ e sono $\left(-\frac{11}{2}, 1\right), \left(-\frac{7}{2}, 1\right), \left(-\frac{3}{2}, 1\right), \left(\frac{1}{2}, 1\right), \left(\frac{5}{2}, 1\right), \left(\frac{9}{2}, 1\right)$; i minimi hanno ascissa

$x = \frac{3}{2} + 2k$ con $-6 < \frac{3}{2} + 2k < 6 \wedge k \in \mathbb{Z} \Rightarrow -\frac{15}{4} < k < \frac{9}{4} \wedge k \in \mathbb{Z} \Rightarrow k = -3, -2, -1, 0, 1, 2$ ed ordinata $y = -1$ e sono $\left(-\frac{9}{2}, -1\right), \left(-\frac{5}{2}, -1\right), \left(-\frac{1}{2}, -1\right), \left(\frac{3}{2}, -1\right), \left(\frac{7}{2}, -1\right), \left(\frac{11}{2}, -1\right)$. Abbiamo così ritrovato gli stessi punti precedentemente calcolati.

Punto 3

Sia R la regione del piano delimitata da G_f e G_g sull'intervallo $[0, 2]$. Si calcoli l'area di R .

La regione R di cui calcolare l'area è di seguito raffigurata in grigio:



Dalla figura soprastante si evince chiaramente che il grafico G_g in $[0, 2]$ sta sempre al di sopra del grafico G_f ; tuttavia prima di procedere al calcolo mostriamo analiticamente che $f(x) \leq g(x) \forall x \in [0, 2]$.

Nell'intervallo $[0, 1]$ la disuguaglianza è verificata in quanto dal segno di entrambe deduciamo che $f(x) \leq 0 \leq g(x)$.

Nell'intervallo $\left[1, \frac{3}{2}\right]$ la funzione $g(x) = \sin(\pi x) \geq -1$ in quanto la funzione seno ha come codominio $[-1, 1]$ mentre la funzione $f(x) = x^3 - 4x$ è concava verso l'alto in quanto ha derivata seconda $f''(x) = 6x$ positiva e, inoltre, poiché $f(1) = -3 < -1$, $f\left(\frac{3}{2}\right) = -\frac{45}{8} < -1$ per convessità è minore di -1 in tutto $\left[1, \frac{3}{2}\right]$.

Per dimostrare che vale la disuguaglianza $f(x) \leq g(x)$ anche in $\left[\frac{3}{2}, 2\right]$ suddividiamo suddetto intervallo nell'unione dei due sotto-intervalli $\left[\frac{3}{2}, \frac{5}{3}\right] \cup \left[\frac{5}{3}, 2\right]$ e iniziamo a provare che in entrambi i

sotto-intervalli $g'(x) \leq f'(x)$. In ognuno dei due sotto-intervalli entrambe le funzioni sono crescenti per cui valgono le seguenti catene di disuguaglianze:

$$g'(x) = \pi \cos(\pi x) \leq g'\left(\frac{5}{3}\right) = \frac{\pi}{2} \leq \frac{11}{4} \leq f'\left(\frac{3}{2}\right) \leq f'(x)$$

$$g'(x) = \pi \cos(\pi x) \leq g'(2) = \pi \leq \frac{13}{3} \leq f'\left(\frac{5}{3}\right) \leq f'(x)$$

da cui deduciamo $g'(x) \leq f'(x) \quad \forall x \in \left[\frac{3}{2}, 2\right]$.

Ora poiché $f(2) = g(2) = 0$ vale la seguente disuguaglianza:

$$f(x) = f(2) - \int_x^2 f'(t) dt = - \int_x^2 f'(t) dt \stackrel{g'(t) \leq f'(t)}{\leq} - \int_x^2 g'(t) dt = g(2) - \int_x^2 g'(t) dt = g(x)$$

cioè $f(x) \leq g(x)$ anche in $\left[\frac{3}{2}, 2\right]$; in conclusione abbiamo provato che $f(x) \leq g(x) \quad \forall x \in [0, 2]$.

In definitiva l'area richiesta vale

$$S(R) = \int_0^2 [g(x) - f(x)] dx = \int_0^2 [\sin(\pi x) - x^3 + 4x] dx = \left[-\frac{\cos(\pi x)}{\pi} - \frac{x^4}{4} + 2x^2 \right]_0^2 = \left(-\frac{1}{\pi} - 4 + 8 \right) - \left(-\frac{1}{\pi} \right) = 4$$

Punto 4

La regione R rappresenta la superficie libera dell'acqua contenuta in una vasca. In ogni punto di R a distanza x dall'asse y la misura della profondità dell'acqua nella vasca è data da $h(x) = 3 - x$. Quale integrale definito dà il volume dell'acqua? Supposte le misure in metri, quanti litri di acqua contiene la vasca?

Per il calcolo del volume si può ragionare in questo modo. Un piano perpendicolare alla superficie libera dell'acqua interseca quest'ultima secondo un segmento di lunghezza $[g(x) - f(x)]$ per cui la sezione è un rettangolo di base $[g(x) - f(x)] = (\sin \pi x - x^3 + 4x)$ ed altezza $h(x) = 3 - x$ e quindi di area $A(x) = (\sin \pi x - x^3 + 4x) \cdot (3 - x)$ con $x \in [0, 2]$. Se si considera uno spessore dx il volumetto infinitesimo è $dV = A(x) \cdot dx = [(\sin \pi x - x^3 + 4x) \cdot (3 - x)] \cdot dx$ pertanto il volume richiesto è

$$V = \int_0^2 [(\sin \pi x - x^3 + 4x) \cdot (3 - x)] dx$$

Utilizzando l'integrazione per parti e la formula di integrazione delle funzioni polinomiali, il volume è

$$\begin{aligned}
 V &= \int_0^2 [(\sin \pi x - x^3 + 4x) \cdot (3 - x)] dx = \int_0^2 [(3 - x) \sin(\pi x)] dx + \int_0^2 (x^4 - 3x^3 - 4x^2 + 12x) dx = \\
 &= \left[\frac{(x-3)\cos(\pi x)}{\pi} - \frac{\sin(\pi x)}{\pi^2} + \frac{x^5}{5} - \frac{3x^4}{4} - \frac{4x^3}{3} + 6x^2 \right]_0^2 = \\
 &= \left(-\frac{1}{\pi} + \frac{32}{5} - 12 - \frac{32}{3} + 24 \right) - \left(-\frac{3}{\pi} \right) = \left(\frac{2}{\pi} + \frac{116}{15} \right) \text{m}^3
 \end{aligned}$$

Poiché $1\text{m}^3 = 1000\text{dm}^3$ e $1\text{dm}^3 = 11$ i litri contenuti nella vasca sono

$$\left(\frac{2}{\pi} + \frac{116}{15} \right) \cdot 1000 \text{ litri} = 8369,95 \text{ litri} .$$

PROBLEMA 2

Sia f la funzione definita sull'insieme R dei numeri reali da

$$f(x) = (ax + b)e^{\frac{x}{3}} + 3$$

dove a e b sono due reali che si chiede di determinare sapendo che f ammette un massimo nel punto d'ascissa 4 e che $f(0) = 2$.

Punto 1

Si provi che $a = 1$ e $b = -1$.

La derivata della funzione $f(x) = (ax + b)e^{\frac{x}{3}} + 3$ è

$$f'(x) = ae^{\frac{x}{3}} - \frac{(ax + b)}{3}e^{\frac{x}{3}} = \left(\frac{-ax + 3a - b}{3}\right)e^{\frac{x}{3}}. \text{ Imponendo la presenza del massimo in } x = 4 \text{ e}$$

quindi $f'(4) = 0$ si ricava $a + b = 0$; imponendo invece $f(0) = 2$ si ricava $b = -1$; in conclusione $a = 1, b = -a = -1$.

Punto 2

Si studi su R la funzione $f(x) = (ax + b)e^{\frac{x}{3}} + 3$ e se ne tracci il grafico Γ nel sistema di riferimento Oxy .

Invece di studiare la funzione $f(x) = (x-1)e^{\frac{x}{3}} + 3$, procederemo allo studio della funzione ausiliaria $g(x) = (x-1)e^{\frac{x}{3}}$ e poi il grafico Γ di $f(x)$ lo ricaveremo da quello di $g(x)$ trasladando quest'ultimo verso le ordinate positive di una quantità pari a 3.

Studiamo quindi $g(x) = (x-1)e^{\frac{x}{3}}$:

- *Dominio*: R
- *Intersezione ascisse*: $g(x) = (x-1)e^{\frac{x}{3}} = 0 \Rightarrow (x-1) = 0 \Rightarrow x = 1$ poichè $e^{\frac{x}{3}} > 0 \quad \forall x \in R$;
- *Intersezioni ordinate*: $x = 0 \Rightarrow g(0) = -1$;
- *Positività*: $g(x) = (x-1)e^{\frac{x}{3}} > 0 \Rightarrow x > 1$ poichè $e^{\frac{x}{3}} > 0 \quad \forall x \in R$;
- *Asintoti verticali*: non ve ne sono in quanto il dominio è R ;
- *Asintoti orizzontali*: $\lim_{x \rightarrow -\infty} g(x) = \lim_{x \rightarrow -\infty} (x-1)e^{\frac{x}{3}} = -\infty \cdot +\infty = -\infty$ mentre

$\lim_{x \rightarrow +\infty} g(x) = \lim_{x \rightarrow +\infty} \frac{(x-1)}{e^{\frac{x}{3}}} \xrightarrow{\text{De L'Hospital}} \lim_{x \rightarrow +\infty} \frac{(x-1)}{e^{\frac{x}{3}}} = \lim_{x \rightarrow +\infty} \frac{3}{e^{\frac{x}{3}}} = 0$ per cui la retta $y = 0$ è asintoto orizzontale destro;

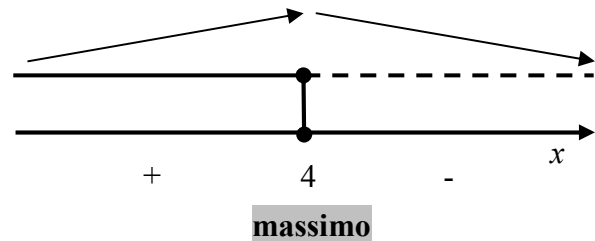
- *Asintoti obliqui*: non ve ne sono in quanto $\lim_{x \rightarrow -\infty} \frac{g(x)}{x} = \lim_{x \rightarrow -\infty} \left(\frac{x-1}{x} \right) e^{\frac{-x}{3}} = +\infty$ e

$$\lim_{x \rightarrow +\infty} \frac{g(x)}{x} = \lim_{x \rightarrow +\infty} \left(\frac{x-1}{x} \right) e^{\frac{-x}{3}} = 0;$$

- *Crescenza e decrescenza*: la derivata prima è $g'(x) = \left(\frac{-x+4}{3} \right) e^{\frac{-x}{3}}$ per cui $g(x)$ è strettamente crescente in $(-\infty, 4)$ e strettamente decrescente in $(4, +\infty)$ per cui $M_g \left(4, 3e^{\frac{4}{3}} \right)$

è un massimo relativo ed assoluto;

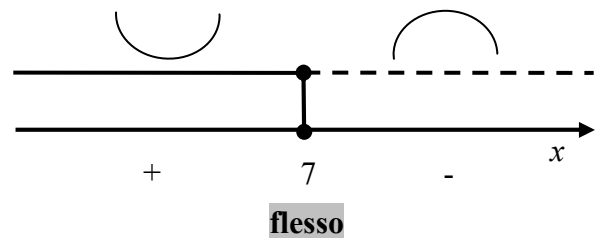
$$\begin{aligned} g'(x) > 0 &\Rightarrow x < 4 \\ g'(x) < 0 &\Rightarrow x > 4 \\ g'(x) = 0 &\Rightarrow x = 4 \end{aligned}$$



- *Concavità e convessità*: $g''(x) = -\frac{1}{3}e^{\frac{-x}{3}} - \left(\frac{-x+4}{9} \right) e^{\frac{-x}{3}} = \left(\frac{x-7}{9} \right) e^{\frac{-x}{3}}$ per cui $g(x)$ è concava verso l'alto in $(7, +\infty)$ e verso il basso in $(-\infty, 7)$ da cui deduciamo che

$F_g \left(7, 6e^{\frac{-7}{3}} \right)$ è un flesso a tangente obliqua.

$$\begin{aligned} g''(x) > 0 &\Rightarrow x < 7 \\ g''(x) < 0 &\Rightarrow x > 7 \\ g''(x) = 0 &\Rightarrow x = 7 \end{aligned}$$



La funzione $f(x)$ conserva la stessa ascissa di massimo assoluto di $g(x)$ mentre l'ordinata è incrementata di 3, cioè $M_f \left(4, 3e^{\frac{4}{3}} + 3 \right)$; analogamente il punto di flesso a tangente obliqua sarà

$F_f \left(7, 6e^{\frac{-7}{3}} + 3 \right)$ mentre l'asintoto orizzontale sarà $y = 3$. Il punto in cui $f(x)$ interseca l'asse delle

ascisse, invece, non può essere definito a partire da quello in cui $g(x)$ interseca lo stesso asse. In questo caso il valore approssimato può essere calcolato tramite il metodo delle tangenti o di Newton-Raphson che permette di calcolare iterativamente la radice tramite la formula

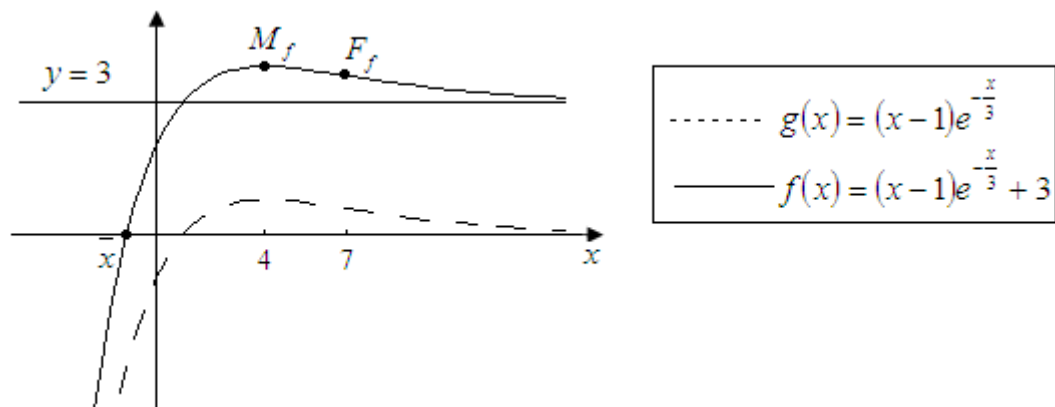
$$x_{n+1} = x_n - \frac{f(x_n)}{f'(x_n)} = x_n - \frac{(x_n - 1)e^{-\frac{x_n}{3}} + 3}{\left(\frac{-x_n + 4}{3}\right)e^{-\frac{x_n}{3}}} = x_n - \frac{3(x_n - 1) + 9e^{\frac{x_n}{3}}}{-x_n + 4} = \frac{-x_n^2 + x_n + 3 - 9e^{\frac{x_n}{3}}}{-x_n + 4}. \quad \text{Poichè}$$

$f(-2) < 0, f(-1) > 0$ l'unico zero, per il teorema degli zeri per le funzioni continue, apparterrà all'intervallo $(-2, -1)$. Applichiamo allora il metodo suddetto con punto iniziale $x_0 = -2$ in cui $f(x_0)$ e $f''(x_0)$ sono concordi. La tabella seguente mostra tutti i passi dell'algoritmo:

n	x_n	x_{n+1}	$e = x_n - x_{n-1} $
0	-2,000	-1,270	
1	-1,270	-1,096	0,730
2	-1,096	-1,088	0,174
3	-1,088	-1,088	0,008
4	-1,088	-1,088	0,000

per cui con un errore pressochè nullo possiamo affermare che $f(x)$ interseca l'asse delle ascisse in $\bar{x} \cong -1,088$.

I grafici di $f(x)$ e $g(x)$ sono di seguito presentati nel medesimo riferimento cartesiano (in riga continua il grafico Γ e in tratteggiato G_g):

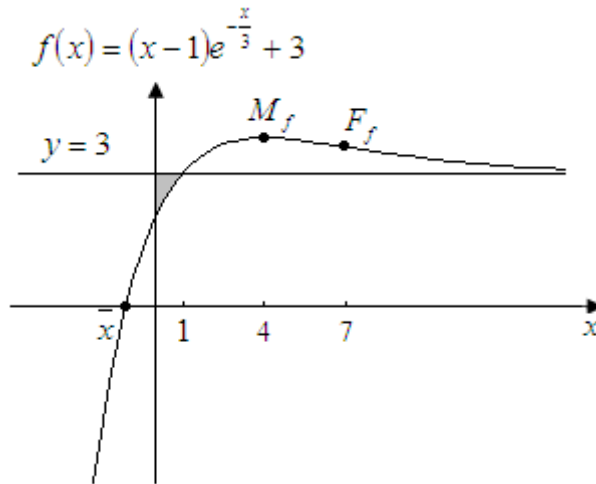


Punto 3

Si calcoli l'area della regione di piano del primo quadrante delimitata da Γ , dall'asse y e dalla retta $y = 3$

La retta $y = 3$ interseca la funzione $f(x) = (x-1)e^{-\frac{x}{3}} + 3$ in $x = 1$, per cui l'area richiesta, di seguito

raffigurata in grigio è pari a $S = \int_0^1 [3 - f(x)] dx = \int_0^1 \left[(1-x)e^{-\frac{x}{3}} \right] dx$.



Utilizzando l'integrazione per parti si ha:

$$\int_0^1 \left[(1-x)e^{-\frac{x}{3}} \right] dx = \left[3(x-1)e^{-\frac{x}{3}} \right]_0^1 - \int_0^1 3e^{-\frac{x}{3}} dx = \left[3(x-1)e^{-\frac{x}{3}} \right]_0^1 + \left[9e^{-\frac{x}{3}} \right]_0^1 = \left[3(x+2)e^{-\frac{x}{3}} \right]_0^1 = 9e^{-\frac{1}{3}} - 6$$

Punto 4

Il profitto di una azienda, in milioni di euro, è stato rappresentato nella tabella sottostante designando con x_i l'anno di osservazione e con y_i il corrispondente protitto.

Anno	2004	2005	2006	2007	2008	2009	2010
x_i	0	1	2	3	4	5	6
y_i	1,97	3,02	3,49	3,71	3,80	3,76	3,65

Si cerca una funzione che spieghi il fenomeno dell'andamento del profitto giudicando accettabile una funzione g definita su R^+ se per ciascun x_i , oggetto dell'osservazione, si ha:

$|g(x_i) - y_i| \leq 10^{-1}$. Si verifichi, con l'aiuto di una calcolatrice, che è accettabile la funzione f del punto 2 e si dica, giustificando la risposta, se è vero che, in tal caso, l'evoluzione del fenomeno non potrà portare a profitti inferiori ai 3 milioni di euro.

Attraverso l'utilizzo della calcolatrice scientifica riportiamo i valori assunti dalla funzione

$f(x) = (x-1)e^{-\frac{x}{3}} + 3$ per $x = 1, 2, 3, 4, 5, 6$:

Anno	2004	2005	2006	2007	2008	2009	2010
x_i	0	1	2	3	4	5	6
y_i	1,97	3,02	3,49	3,71	3,80	3,76	3,65
$f(x_i)$	2	3	$e^{-\frac{2}{3}} + 3$	$2e^{-1} + 3$	$3e^{-\frac{4}{3}} + 3$	$4e^{-\frac{5}{3}} + 3$	$5e^{-2} + 3$
$ f(x_i) - y_i $	0,030	0,020	$\cong 0,023$	$\cong 0,026$	$\cong 0,009$	$\cong 0,004$	$\cong 0,027$

Dalla tabella di valori soprastante deduciamo che la funzione $f(x) = (x-1)e^{-\frac{x}{3}} + 3$ è accettabile per spiegare il fenomeno dell'andamento del profitto.

Visto che $f(x) \geq 3$ per ogni $x \geq 1$ possiamo concludere che col passare degli anni il fatturato non potrà mai essere inferiore ai 3 milioni di euro.

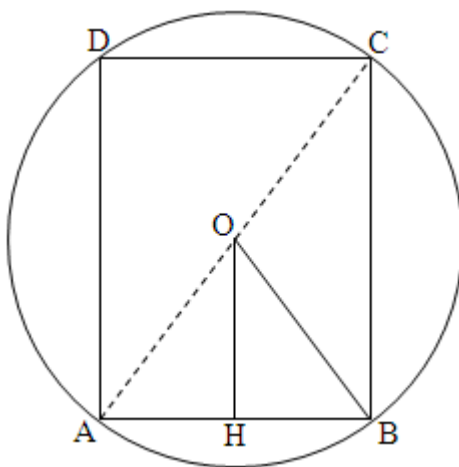
QUESTIONARIOQuesito 1

Un serbatoio ha la stessa capacità del cilindro di massimo volume inscritto in una sfera di raggio 60 cm. Quale è la capacità in litri del serbatoio?

Il quesito può essere risolto in vari modi, ne presentiamo due, il primo che fa uso di un metodo analitico ed il secondo di un metodo sintetico.

- *Metodo analitico*

Consideriamo la seguente figura rappresentante in sezione il cilindro inscritto in una sfera:

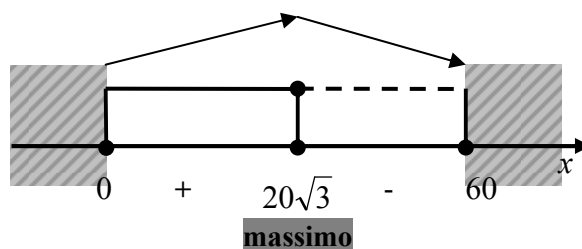


Indichiamo con $2x$, con $0 < x < 60$, l'altezza CB del cilindro; di conseguenza $\overline{OH} = x$ e il quadrato del raggio di base del cilindro è $\overline{HB}^2 = \overline{OB}^2 - \overline{OH}^2 = 3600 - x^2$; il volume del cilindro è quindi $V(x) = \pi \cdot \overline{HB}^2 \cdot \overline{CB} = \pi \cdot 2x \cdot (3600 - x^2)$ e per calcolarne il valore massimo basta calcolarne la derivata prima: $V'(x) = 2\pi \cdot (3600 - 3x^2)$ il cui segno è

$$V'(x) > 0 \Rightarrow 0 < x < 20\sqrt{3}$$

$$V'(x) < 0 \Rightarrow 20\sqrt{3} < x < 60$$

$$V'(x) = 0 \Rightarrow x = 20\sqrt{3}$$



da cui ricaviamo che il volume è massimo per $x = 20\sqrt{3}$ e cioè per altezza del cilindro $h = 2x = 40\sqrt{3} \text{ cm}$ e raggio di base $r = 20\sqrt{6} \text{ cm}$.

Il valore massimo, ricordando che $1 \text{ dm}^3 = 1000 \text{ cm}^3 = 1 \text{ l}$, è pertanto

$$V_{\max} = \left[\pi \cdot 2x \cdot (3600 - x^2) \right]_{x=20\sqrt{3}} = 96000\sqrt{3}\pi \text{ cm}^3 = 96\sqrt{3}\pi \text{ dm}^3 \cong 522,37 \text{ litri}.$$

- *Metodo sintetico*

Indichiamo con x il diametro di base del cilindro, con y la sua altezza e con $R = 60 \text{ cm}$ il raggio

della sfera. In forza di queste assunzioni, applicando il teorema di Pitagora si ha $\overline{AB}^2 + \overline{BC}^2 = \overline{AC}^2 \Leftrightarrow x^2 + y^2 = 4R^2$. Il volume del cilindro è $V(x, y) = \pi \frac{x^2}{4} y$ ed esso è massimo

se è massima la quantità $x^2 y = x^2 (y^2)^{\frac{1}{2}}$: trattandosi del prodotto di due potenze positive e poichè x^2 e y^2 hanno somma costante (pari a $4R^2$), il massimo lo si avrà quando le basi sono proporzionale agli esponenti e quindi se $\frac{x^2}{1} = \frac{y^2}{\frac{1}{2}}$ che equivale a $x^2 = 2y^2$ da cui, sostituendo in

$x^2 + y^2 = 4R^2$, si ottiene $x = \frac{2\sqrt{6}}{3}R, y = \frac{2\sqrt{3}}{3}R$. Il volume massimo è

$$V\left(\frac{2\sqrt{6}}{3}R, \frac{2\sqrt{3}}{3}R\right) = \frac{4}{9}\sqrt{3}\pi R^3 = 96000\sqrt{3}\pi \text{ cm}^3 = 96\sqrt{3}\pi \text{ dm}^3 \cong 522,37 \text{ litri}.$$

Quesito 2

Si trovi il punto della curva $y = \sqrt{x}$ più vicino al punto di coordinate $(4,0)$.

Un punto P della curva ha coordinate (x, \sqrt{x}) e la distanza dal punto $(4,0)$ è

$d(x) = \sqrt{(x-4)^2 + (\sqrt{x})^2} = \sqrt{x^2 - 7x + 16}$. Massimizzare la funzione distanza è equivalente a

massimizzare la funzione quadrato della distanza, per cui massimizzeremo la funzione

$h(x) = d^2(x) = x^2 - 7x + 16$; la derivata prima è $h'(x) = 2x - 7$ per cui la funzione $h(x)$ è

strettamente crescente in $\left(\frac{7}{2}, +\infty\right)$ e strettamente decrescente in $\left(-\infty, \frac{7}{2}\right)$ per cui presenta un

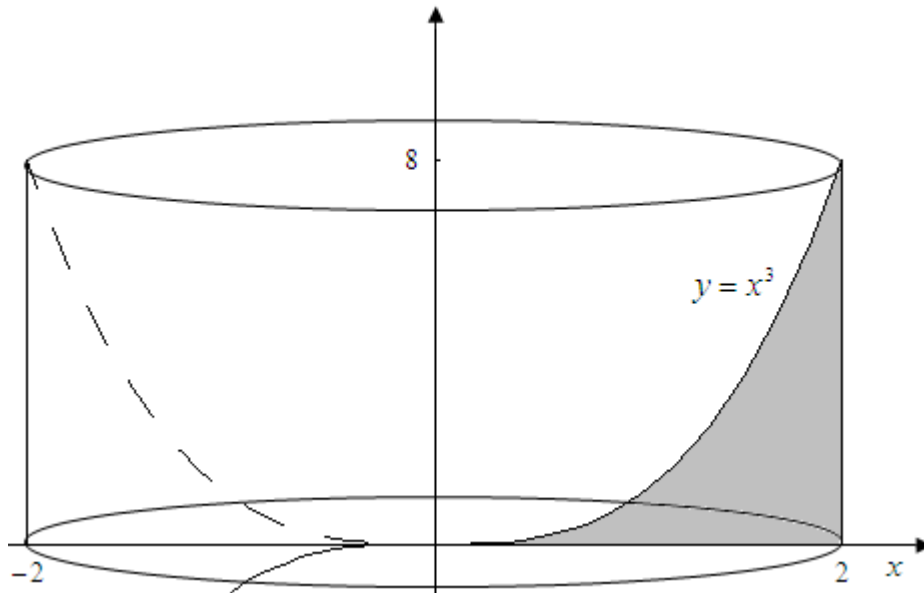
minimo all'ascissa $x = \frac{7}{2}$. Il punto più vicino è quindi $\left(\frac{7}{2}, \frac{\sqrt{14}}{2}\right)$ e la distanza minima è

$$d_{\min} = \sqrt{\left(\frac{7}{2} - 4\right)^2 + \left(\frac{\sqrt{14}}{2}\right)^2} = \sqrt{\frac{1}{4} + \frac{7}{2}} = \frac{\sqrt{15}}{2}.$$

Quesito 3

Sia R la regione delimitata dalla curva $y = x^3$, dall'asse x e dalla retta $x = 2$ e sia W il solido ottenuto dalla rotazione di R attorno all'asse y . Si calcoli il volume di W

Si consideri la figura sottostante rappresentante la geometria del quesito:



Il volume richiesto è pari alla differenza tra il volume del cilindro di altezza 8 e raggio di base 2 e il volume del solido ottenuto dalla rotazione della curva $g(y) = \sqrt[3]{y}, 0 \leq y \leq 8$; il volume del cilindro è $V_C = A_b \cdot h = \pi \cdot 4 \cdot 8 = 32\pi$ mentre il volume del solido ottenuto dalla rotazione della curva

$$g(y) = \sqrt[3]{y}, 0 \leq y \leq 8 \text{ è } V_D = \pi \cdot \int_0^8 g^2(y) dy = \pi \cdot \int_0^8 y^{\frac{2}{3}} dy = \frac{3}{5} \pi \cdot \left[y^{\frac{5}{3}} \right]_0^8 = \frac{96}{5} \pi.$$

$$\text{In conclusione } V = V_C - V_D = 32\pi - \frac{96}{5} \pi = \frac{64}{5} \pi.$$

Alternativamente pensiamo la regione R decomposta in tanti ognuno dei quali genera un solido pari alla differenza di due cilindretti, in modo che, intuitivamente potremo pensare W come somma progressiva di infiniti gusci cilindrici coassiali di spessore dx , dove il raggio x varia da 0 a 2.

Il volume del guscio (infinitesimo) può essere calcolato come prodotto dell'area circolare di base di raggio esterno $(x_i + \Delta x_i)$ e raggio interno x_i , per l'altezza: $V_i = \pi \cdot [(x_i + \Delta x_i)^2 - x_i^2] \cdot x_i^3$.

Trascurando gli infinitesimi di ordine superiore a Δx_i^2 il volume infinitesimo sarà $V_i = 2\pi \cdot x_i^4 \cdot \Delta x_i$. Se il numero di gusci cilindrici in cui suddividiamo l'intervallo $[0, 2]$ è N il

$$\text{volume richiesto sarà: } V = \lim_{N \rightarrow +\infty} \sum_{i=1}^N V_i = \lim_{N \rightarrow +\infty} \left(\sum_{i=1}^N 2\pi \cdot x_i^4 \cdot \Delta x_i \right) = 2\pi \int_0^2 x^4 dx = 2\pi \left[\frac{x^5}{5} \right]_0^2 = \frac{64}{5} \pi.$$

Quesito 4

Il numero delle combinazioni di n oggetti a 4 a 4 è uguale al numero delle combinazioni degli stessi oggetti a 3 a 3. Si trovi n

Si deve risolvere l'equazione $C_{n,4} = C_{n,3}, n \in N$. La condizione di esistenza è $\begin{cases} n \geq 4 \\ n \geq 3 \end{cases} \Rightarrow n \geq 4$.

Ricordando che $C_{n,k} = \frac{D_{n,k}}{k!} = \frac{n \cdot (n-1) \cdot (n-2) \cdot \dots \cdot (n-k+1)}{k!}$, con $n \geq k$. Nel caso in esame

$$C_{n,4} = \frac{n \cdot (n-1) \cdot (n-2) \cdot (n-3) \cdot (n-4)}{4!}, C_{n,3} = \frac{n \cdot (n-1) \cdot (n-2) \cdot (n-3)}{3!} \text{ e imponendo l'uguaglianza}$$

si ha:

$$\frac{n(n-1)(n-2)(n-3)}{24} = \frac{n(n-1)(n-2)}{6} \rightarrow \frac{n(n-1)(n-2)}{24}(n-3-4) = \frac{n \cdot (n-1) \cdot (n-2) \cdot (n-7)}{24} = 0 \text{ da}$$

cui $n = 0, 1, 2, 7$. Poichè per la condizione di esistenza deve essere $n \geq 4$ la soluzione accettabile è $n = 7$.

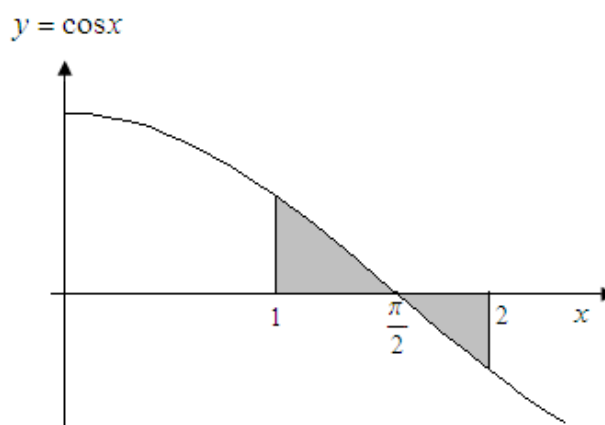
In alternativa, ricordando la proprietà di simmetria dei coefficienti binomiali $\binom{n}{k} = \binom{n}{n-k}$,

essendo $k = 4$ ed $n - k = 3$, l'uguaglianza è soddisfatta se $n - 4 = 3$ e quindi se $n = 7$.

Quesito 5

Si trovi l'area della regione delimitata dalla curva $y = \cos x$ e dall'asse x da $x = 1$ a $x = 2$ radianti.

L'area richiesta è raffigurata in grigio di seguito:



Ricordando che il coseno cambia segno, da negativo a positivo in corrispondenza di $\frac{\pi}{2}$ l'area

$$S = \int_1^{\frac{\pi}{2}} \cos x dx - \int_{\frac{\pi}{2}}^2 \cos x dx = [\sin x]_1^{\frac{\pi}{2}} - [\sin x]_{\frac{\pi}{2}}^2 = 1 - \sin(1) - \sin(2) + 1 = 2 - \sin(1) - \sin(2) \cong 0,25.$$

Quesito 6

Si calcoli $\lim_{x \rightarrow a} \frac{\tan x - \tan a}{x - a}$

Il problema si pone per a appartenente al dominio della funzione tangente e cioè per $a \neq \frac{\pi}{2} + k\pi, k \in \mathbb{Z}$. Il limite $\lim_{x \rightarrow a} \frac{\tan x - \tan a}{x - a}$ si presenta nella forma indeterminata $0/0$ per cui applicando de l'Hopital si ha $\lim_{x \rightarrow a} \frac{1}{\cos^2 x} = \frac{1}{\cos^2 a}$. Un risultato del genere era prevedibile in quanto il limite richiesto coincide con la definizione di derivata della funzione $\tan x$ in $x = a$.

Quesito 7

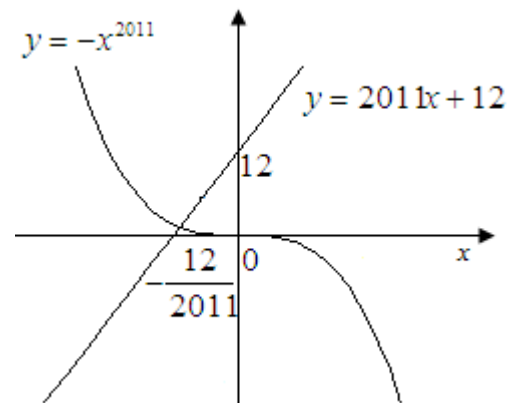
Si provi che l'equazione: $x^{2011} + 2011x + 12$ ha una sola radice compresa fra -1 e 0.

La funzione $f(x) = x^{2011} + 2011x + 12$ è continua e strettamente crescente in tutto il dominio \mathbb{R} in quanto la derivata prima $f'(x) = 2011x^{2010} + 2011$ è sempre positiva; inoltre assume agli estremi dell'intervallo $(-1, 0)$ segno discorde in quanto $f(-1) = -2000 < 0, f(0) = 12 > 0$ per cui a norma del teorema degli zeri per le funzioni continue esiste un unico zero dell'equazione $f(x) = x^{2011} + 2011x + 12 = 0$ e compreso in $(-1, 0)$.

Alternativamente la soluzione dell'equazione può essere ricavata per via grafica risolvendo il sistema

$$\begin{cases} y = -x^{2011} \\ y = 2011x + 12 \end{cases}. \text{ La curva } y = -x^{2011} \text{ è una potenza}$$

ad esponente dispari, definita in \mathbb{R} , positiva per $x < 0$, strettamente decrescente in tutto il dominio e presenta in $(0, 0)$ un flesso a tangente orizzontale di equazione $y = 0$; la curva $y = 2011x + 12$, invece, una retta.



Quesito 8

In che cosa consiste il problema della quadratura del cerchio? Perché è così spesso citato?

La quadratura del cerchio, assieme al problema della trisezione dell'angolo e a quello della duplicazione del cubo, costituisce un problema classico della geometria greca. In sostanza quello della quadratura del cerchio non è altro che un classico problema di matematica (più precisamente di geometria) il cui scopo è costruire un quadrato che abbia la stessa area di un dato cerchio, con uso esclusivo di riga e compasso. Dal punto di vista algebrico, indicati con r il raggio del cerchio e con l il lato del quadrato da trovare, vale la relazione:

$$\pi \cdot r^2 = l^2 \rightarrow l = \sqrt{\pi} \cdot r$$

Nel 1882 fu dimostrato che non era possibile costruire un lato di misura $l = \sqrt{\pi} \cdot r$ solo con riga e compasso e ciò deriva dal fatto che il numero π è trascendente.

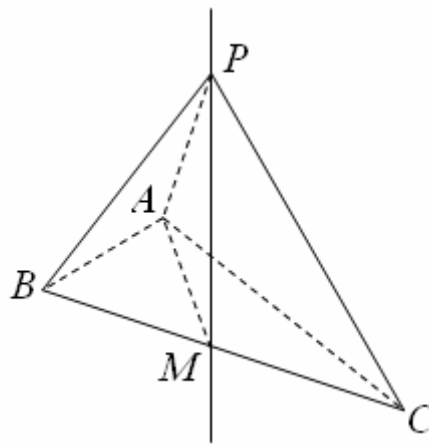
Quesito 9

Si provi che, nello spazio ordinario a tre dimensioni, il luogo geometrico dei punti equidistanti dai tre vertici di un triangolo rettangolo è la retta perpendicolare al piano del triangolo passante per il punto medio dell'ipotenusa.

Forniamo due tipi di soluzione al quesito, una con metodo sintetico ed una con metodo analitico.

- *Metodo sintetico*

Consideriamo la figura sottostante:



Ogni triangolo rettangolo è inscritto in una circonferenza di centro M, punto medio dell'ipotenusa BC, e raggio $\overline{BM} = \overline{MC} = \overline{AM}$. Per questo motivo, preso un qualsiasi punto P sulla perpendicolare per M al piano del triangolo, le tre distanze PA, PB e PC sono uguali in quanto ipotenuse di tre triangoli rettangoli, PAM – PBM – PMC, aventi cateti congruenti.

Per dimostrare che la retta in questione è il luogo richiesto dobbiamo dimostrare che ogni punto equidistante da A, B e C si trova su tale retta. A tale scopo basta notare che il luogo dei punti equidistanti da A e B è il piano perpendicolare ad AB nel suo punto medio, analogamente per A e C e per B e C: i punti equidistanti da A, B e C appartengono contemporaneamente a questi tre piani, che hanno in comune proprio la retta perpendicolare al piano del triangolo ABC nel punto medio M dell'ipotenusa BC.

- *Metodo analitico*

Consideriamo un sistema di coordinate nello spazio in modo che i vertici del triangolo rettangolo sono $O(0,0,0)$, $A(a,0,0)$, $B(0,b,0)$ e sia $P(x,y,z)$ un generico punto dello spazio. La condizione $\overline{AP} = \overline{BP} = \overline{OP}$, ricordando la formula della distanza tra due punti, si riconduce a:

$$\underbrace{(x-a)^2}_{(1)} + y^2 + z^2 = x^2 + \underbrace{(y-b)^2}_{(2)} + z^2 = x^2 + \underbrace{y^2}_{(3)} + z^2$$

Uguagliando la (1) e la (3) ricaviamo $x = \frac{a}{2}$ mentre uguagliando la (2) e la (3) ricaviamo

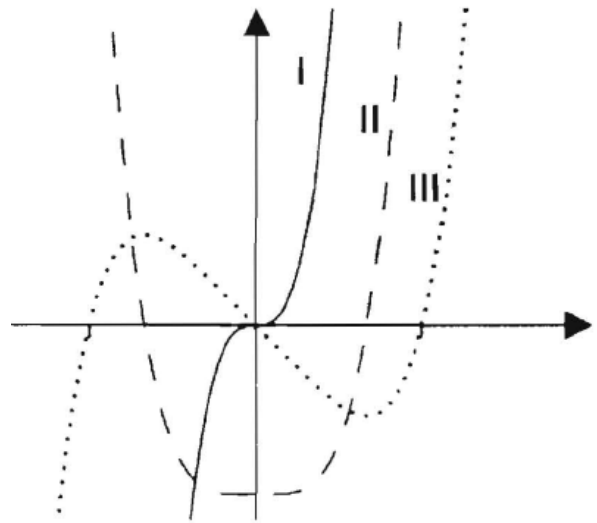
$y = \frac{b}{2}$, cioè otteniamo le equazioni della retta perpendicolare al triangolo, appartenente al

piano $z = 0$, e passante per il punto $\left(\frac{a}{2}, \frac{b}{2}, 0\right)$ coincidente con il punto medio del lato AB.

Quesito 10

Nella figura a lato, denotati con I, II e III, sono disegnati tre grafici. Uno di essi è il grafico di una funzione f , un altro lo è della funzione derivata f' e l'altro ancora di f'' .

Quale delle seguenti alternative identifica correttamente ciascuno dei tre grafici?



	f	f'	f''
A)	I	II	III
B)	I	III	II
C)	II	III	I
D)	III	II	I
E)	III	I	II

Si motivi la risposta.

La risposta esatta è D.

Infatti se assumiamo come f la funzione III ci rendiamo conto che la derivata prima si annulla in due punti in corrispondenza del massimo e del minimo relativo che assume f . Inoltre deve avvenire che la derivata prima deve essere positiva tra meno infinito e il massimo di f , negativa tra massimo e minimo, e poi di nuovo positiva dal minimo in poi. E ciò è quello che succede nella funzione II. Inoltre la derivata seconda deve azzerarsi solo in zero che è flesso per f , passando da valori negativi a valori positivi, cosa che accade per la funzione I.

Alternativamente possiamo notare come delle tre funzioni, due sono dispari e cioè I e III e una è pari, la II. Visto che la derivata di una funzione dispari è pari e viceversa, la funzione derivata prima non può essere che la II. In questo modo le alternative possibili restano la A e la D. Ma la A va scartata in quanto la funzione II assume sia valori positivi che negativi e quindi non può essere la derivata della I, perchè derivando la I si ottiene una funzione sempre positiva. Pertanto l'alternativa corretta è la D.